









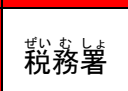


# もじで 文字が出るプリント(地図記号②)








なまえ  
名前

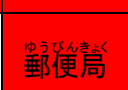
【Q1】 ①～⑨の地図記号が表しているものに色をぬろう。

①  市役所	⑤  小中学校	⑧  神社
②  裁判所	⑥  病院	⑨  博物館
③  消防署	⑦  工場	④  田











		
		
		
		
		



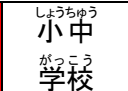


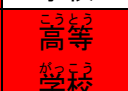








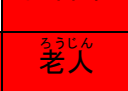
【Q2】 ①～⑦の地図記号が表しているものに色をぬろう。

①  町村役場	④  発電所等	⑦  城跡
②  税務署	⑤  郵便局	
③  警察署	⑥  果樹園	

【Q3】 ①～⑩の地図記号が表しているものに色をぬろう。

①  交番	⑤  灯台	⑨  畑
②  高等学校	⑥  寺院	⑩  茶畑
③  図書館	⑦  温泉	
④  老人ホーム	⑧  風車	



でてきたカタカナ

Q1

キ

Q2

コ

Q3

ウ